

පළමු වාර පරීක්ෂණය 2015

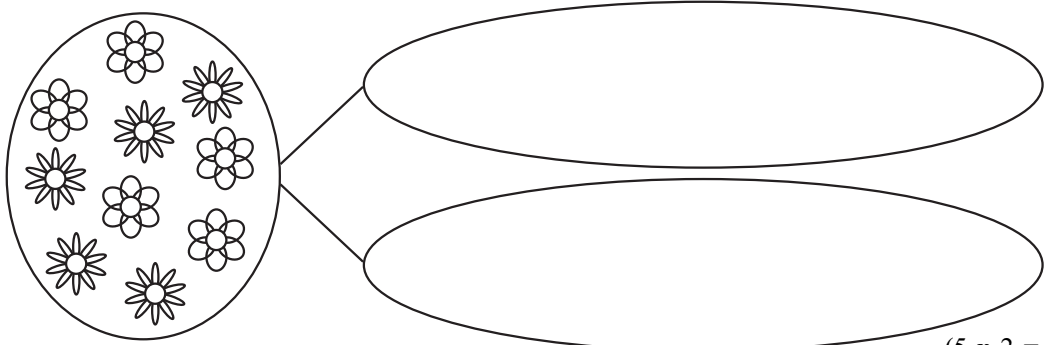
2 ශ්‍රේණිය

ගණිතය

කාලය පැය 1 ඊ. වි. 30 ඊ.

මගේ නම:

01 රවුමේ ඇති මල් හඳුනාගෙන වර්ග 2 කට වෙන් කරන්න.



(5 x 2 = 10)

02 දී ඇති උපදෙස් නොදිනේ කියවා පිළිතුරු සපයන්න.

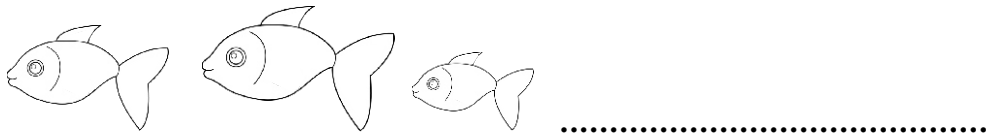
(1) කුඩාම රූපය පාට කරන්න.



(2) උසම රූපය පාට කරන්න.




(3) කුඩා රූපයේ සිට විශාල රූපය දක්වා අඳින්න.



(4) විශාල රූපයේ සිට කුඩා රූපය දක්වා අඳින්න.

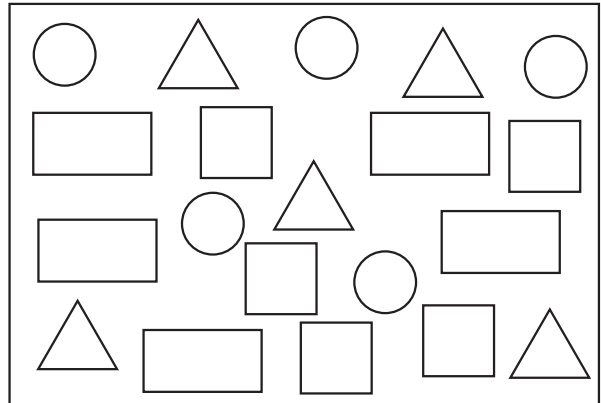


(5) ඊළඟට එන රූපය අඳින්න.



03 කොටුව තුළ තිබෙන හැඩ ගණන් කර ලියන්න. (2 x 5 = 10)

- (1)
- (2)
- (3)
- (4)




(2 x 4 = 08)

04 ගිනිකුරු වලින් දිග මැන ලියන්න.



පැන්සලේ දිග

.....



පනාවේ දිග

.....

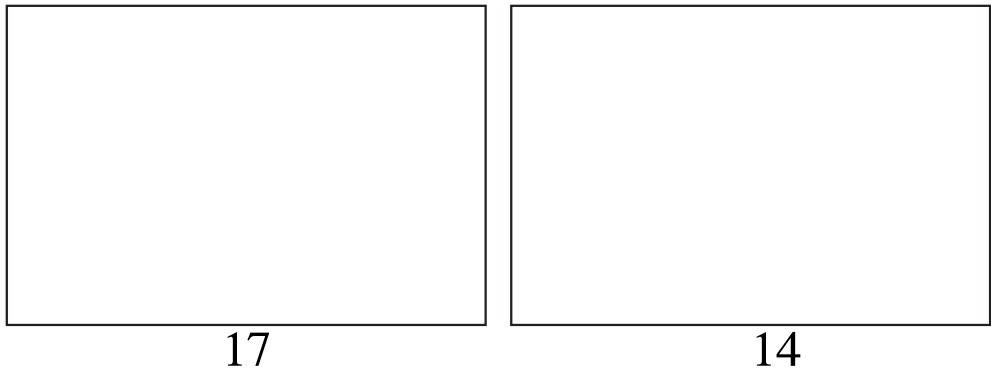
(2 x 2 = 04)

05 වගුව සම්පූර්ණ කරන්න.

| සංඛ්‍යාංකය | සංඛ්‍යා නාමය |
|------------|--------------|
| 12 | (1) |
| (2) | දහසය |
| 15 | (3) |
| (4) | දහතුන |
| 11 | (5) |

(2 x 5 = 10)

06 (1) දී ඇති සංඛ්‍යා අනුව රූප අඳින්න.



(2) පෙර, පසු සංඛ්‍යාව ලියන්න.

1. 7
2. 12
3. 18

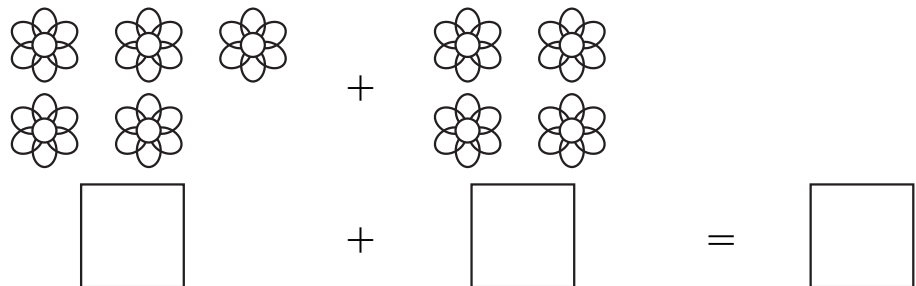
(2 x 8 = 16)

07 වගුව සම්පූර්ණ කරන්න.

| ඉරටු මිටි | ඉරටු | සංඛ්‍යාව |
|-----------|------|----------|
| උදා: | | 13 |
| (1) | | |
| (2) | | |
| (3) | | |
| (4) | | |
| (5) | | |

08 (1) 1. එකතු කරන්න.

(1 x 5 = 05)

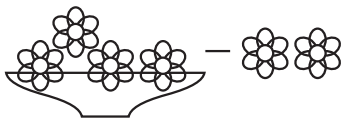


2. $6 + 2 = \dots\dots\dots$

3. $4 + 3 = \dots\dots\dots$

4. හයයි + දෙකයි = $\dots\dots\dots$
($2\frac{1}{2} \times 4 = 10$)

(2) අඩුකරන්න.

1.  වට්ටියේ ඉතිරි මල් ගණන
.....

2. $8 - 4 = \dots\dots\dots$

3. $5 - 2 = \dots\dots\dots$

4. $9 - 1 = \dots\dots\dots$

($2\frac{1}{2} \times 4 = 10$)

09 රූප බලා පිළිතුරු ලියන්න.



(1) අඹවලට කීදෙනෙක් කැමතිද?

(2) ටොෆිවලට කැමති අය කවුරුන්ද?

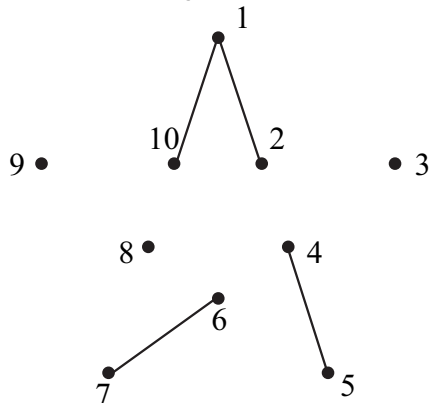
(3) ජම්බුවලට කැමති අය කවුරුන්ද?

(4) අයිස්ක්රීම්වලට කැමති අය කවුරුන්ද?

(5) වැඩිදෙනෙක් කැමති වර්ගය කුමක්ද?

($1 \times 5 = 05$)

10 අංක යාකර රූපය මතුකර පාච කරන්න.



($2 \times 6 = 12$)